
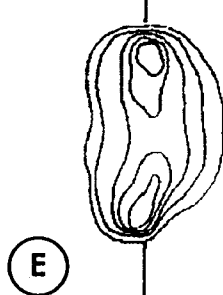
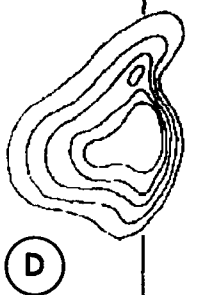
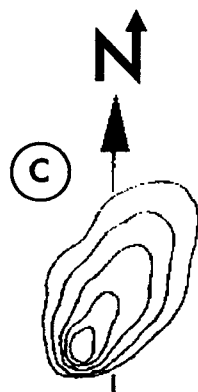
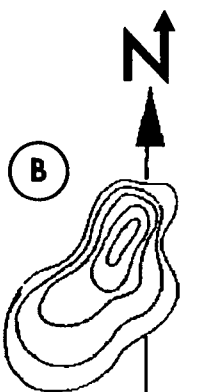
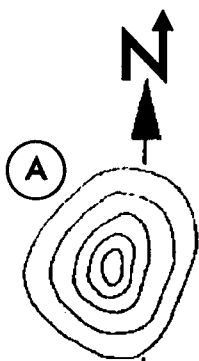



FITXA d'Orientació

• Relaciona les corbes de nivell amb la seva corresponent muntanya.

1	2	3	4	5



1 • Les cares Nord i Sud d'aquest cim tenen un gran pendent. E

2 • Aquest cim té la seva vessant més abrupta al Sudoest. C

3 • Les cares Sud i Sudest d'aquest cim no són de considerable pendent. B

4 • Aquest cim té dos turons, el del Sud és el més alt. F

5 • Totes les vessants tenen el mateix pendent. A

6 • És millor evitar pujar per la cara Est. D